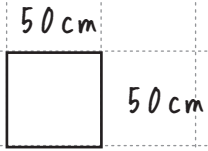
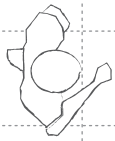


どんな建具が必要かな？・・・自由に考えて書いてね！

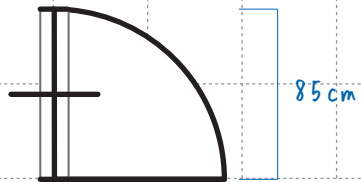
1マスを50cmとして考えてね

書けたら、切り取って間取り図に配置してね。



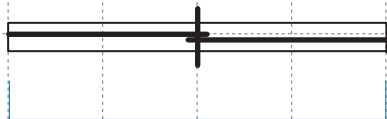
★参考例★ (これをそのまま使ってもいいよ)

↓戸 (この戸の幅は85cmあるよ)



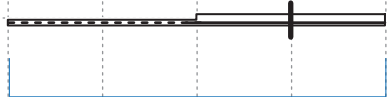
10cm (壁の厚み)

↓窓 (この窓の幅は200cmあるよ)



10cm (壁の厚み)

↓片引き戸



6cm (室内壁の厚み)

